

P1 de Equações diferenciais e de diferenças

MAT 1154 — 2005.2

Data: 10 de setembro de 2005

Nome: \_\_\_\_\_ Matrícula: \_\_\_\_\_

Assinatura: \_\_\_\_\_ Turma: \_\_\_\_\_

Questão	Valor	Nota	Revisão
1a	2.0		
1b	2.0		
1c	2.0		
2	2.0		
3	2.0		
Total	10.0		

### Instruções

- Não é permitido usar nenhum tipo de calculadora.
- A prova pode ser resolvida a lápis ou a caneta.
- Você tem direito a uma folha de consulta.
- Todas as respostas devem ser justificadas.

1. Resolva os problemas de valor inicial abaixo, isto é, encontre a função  $y(x)$  que satisfaz a equação diferencial e as condições iniciais dadas.

(a)

$$y' = xy^2, \quad y(1) = 2.$$

**Solução:**

Podemos escrever  $dy/dx = xy^2$  donde  $\int y^{-2}dy = \int xdx + C$ .  
Integrando temos  $-y^{-1} = (x^2/2) + C$  ou

$$y = -\frac{2}{x^2 + 2C}.$$

Substituindo  $x = 1$  e  $y = 2$  temos  $C = -2$ , donde

$$y = \frac{2}{2 - x^2}.$$

(b)

$$y' + (\tan x) y = \cos x, \quad y(0) = 1.$$

**Solução:**

Vamos primeiro resolver a equação homogênea:

$$y'_h + (\tan x) y_h = 0.$$

Separando as variáveis (e ignorando a constante de integração) temos

$$\int \frac{dy_h}{y_h} = - \int \tan x dx = \int \frac{-\operatorname{sen} x dx}{\cos x}$$

donde  $\ln(|y_h|) = \ln(|\cos x|)$  ou  $y_h = \cos x$ .

Vamos resolver agora a equação original usando variação dos parâmetros: substituindo  $y = zy_h = z \cos x$  na equação original obtemos

$$z' \cos x = \cos x$$

donde  $z(x) = x + C$  (para alguma constante  $C$ ) ou

$$y = (x + C) \cos x.$$

Substituindo  $x = 0$  e  $y = 1$  obtemos  $C = 1$  donde

$$y = (x + 1) \cos x.$$

(c)

$$y'' - 7y' + 10y = e^{2x}, \quad y(0) = y'(0) = 0.$$

**Solução:**

Resolvendo a equação associada  $\lambda^2 - 7\lambda + 10 = 0$  obtemos as raízes reais distintas  $\lambda_1 = 2$  e  $\lambda_2 = 5$ . Assim a solução geral da equação homogênea é

$$y_h = C_1 e^{2x} + C_2 e^{5x}.$$

Vamos usar coeficientes a determinar para encontrar uma solução particular  $y_p$ . Faça

$$\begin{aligned} y_p(x) &= Cx e^{2x} \\ y_p'(x) &= 2Cx e^{2x} + C e^{2x} \\ y_p''(x) &= 4Cx e^{2x} + 4C e^{2x} \end{aligned}$$

donde

$$y'' - 7y' + 10y = -3C e^{2x} = e^{2x}$$

donde  $C = -1/3$  e a solução geral da equação diferencial é

$$y = -\frac{1}{3}x e^{2x} + C_1 e^{2x} + C_2 e^{5x}$$

e temos  $y(0) = C_1 + C_2 = 0$ ,  $y'(0) = (-1/3) + 2C_1 + 5C_2 = 0$ . Resolvendo o sistema temos  $C_1 = -1/9$  e  $C_2 = 1/9$  donde

$$y = -\frac{1}{3}x e^{2x} - \frac{1}{9}e^{2x} + \frac{1}{9}e^{5x} = \frac{(-3x - 1)e^{2x} + e^{5x}}{9}.$$

2. Considere os quatro campos de direções desenhados na próxima página. Eles correspondem a equações diferenciais da forma  $y' = f(x, y)$ . Cada desenho mostra o quadrado de vértices  $(\pm 2, \pm 2)$  e o centro de cada desenho é a origem do plano  $xy$ . Considere também as seguintes oito equações diferenciais.

1.  $y' = x$

2.  $y' = x^2/2$

3.  $y' = 1/x$

4.  $y' = x - y$

5.  $y' = x + y$

6.  $y' = -x/y$

7.  $y' = -y^2$

8.  $y' = x^2 + y^2$

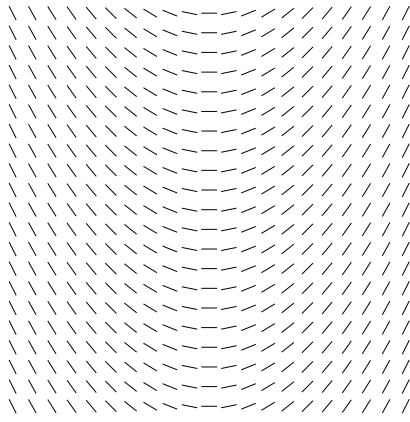
Cada um dos quatro desenhos corresponde a uma das oito equações dadas. Identifique as correspondências.

**Solução:**


A correspondência correta é a1, b7, c6, d4. Apresentamos abaixo uma forma de eliminar as opções erradas.

As equações 2 e 8 satisfazem  $y' \geq 0$  para todo ponto o que não coincide com nenhum dos quatro diagramas. Na equação 3 temos  $y'$  não definido em nenhum ponto do eixo  $y$ , o que também não confere com os diagramas. Além disso, a equação 5 satisfaz  $y' = 0$  ao longo da reta  $x + y = 0$  o que também não corresponde a nenhum dos diagramas. Assim as quatro equações que correspondem a diagramas são 1, 4, 6 e 7.


A equação 7 satisfaz  $y' = 0$  no eixo  $x$  e  $y' < 0$  nos demais pontos, o que só pode corresponder ao diagrama b. A equação 4 satisfaz  $y' = 0$  na reta  $x = y$ , o que só se verifica no diagrama d. Na equação 1,  $y'$  tem o sinal de  $x$ , o que corresponde ao diagrama a. Finalmente, na equação 6, temos  $y' = 0$  no eixo  $y$  e  $y'$  não definido (ou  $y' = \infty$ ) no eixo  $x$ : diagrama c.



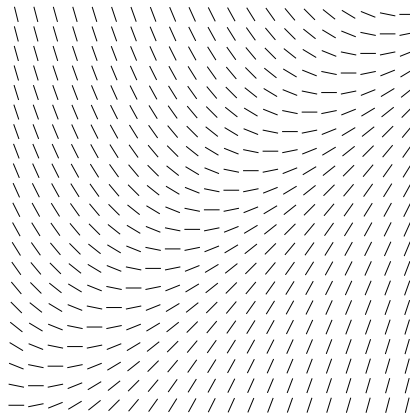
(a)



(b)



(c)



(d)

3. A função  $y_1(x) = e^x \cos 2x$  é solução da equação diferencial

$$y'' + by' + cy = 0,$$

onde  $b$  e  $c$  são constantes reais. Encontre a solução  $y_2(x)$  da mesma equação que satisfaça

$$y_2(0) = 0, \quad y_2'(0) = 1.$$

**Solução:**

Para uma equação desta forma, se  $e^x \cos 2x$  é solução então  $e^x \sin 2x$  também é e a solução geral é

$$y = C_1 e^x \cos 2x + C_2 e^x \sin 2x.$$

Substituindo as condições iniciais para  $y_2$  temos  $C_1 = 0$  e  $C_2 = 1/2$ , donde

$$y_2 = \frac{1}{2} e^x \sin 2x.$$